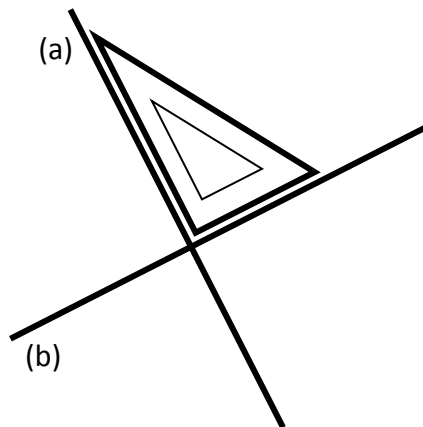


LES DROITES PERPENDICULAIRES

1. Définition


Quand **deux droites** se croisent en formant un **angle droit**, elles sont **perpendiculaires**.

On vérifie que deux droites sont perpendiculaires à l'aide d'une **équerre**.

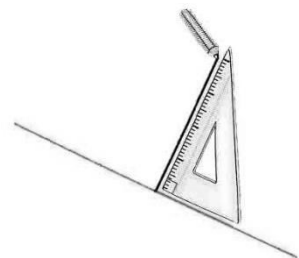


2. Tracer deux droites perpendiculaires.

1. Trace une première droite :



2. Avec une **équerre**, trace une seconde droite, **perpendiculaire** à la première



3. **Prolonge** la seconde droite avec ta **règle**.

